

**TALENTOVÁ ZKOUŠKA 2020**  
TEST

Jméno a příjmení: .....


**1. Přiradte jméno umělce k dílu, které vytvořil.**

Gustav Klimt

Pablo Picasso

Claude Monet

Michelangelo Buonarroti



A: .....

B: .....



C: .....

D: .....

## 2. Sochařská technika přidávání materiálu se nazývá:

- A. sochařství  
B. litografie  
C. enkaustika  
D. plastika  
E. mezzotinta

## 3. Čemu se věnovaly/věnují níže uvedené osobnosti?

- Winston Churchill ..... Eva Jiřičná .....  
Antonín Slaviček ..... Milada Horáková .....  
Gian Lorenzo Bernini ..... Johann Bernhard Fischer von Erlach .....  
Olga Scheinpflugová ..... Gustav Mahler .....  
Clint Eastwood ..... Miloš Forman .....

## 4. Označte možnost, ve které jsou slohy seřazené v správném pořadí.

- A. gotický sloh - barokní sloh - renesance - románský sloh  
B. barokní sloh - renesance - gotický sloh - románský sloh  
C. románský sloh - gotický sloh - renesance - baroko  
D. renesance - baroko - románský sloh - gotický sloh

## 5. Mezi umělecké směry 20. století nepatří:

- A. dadaismus  
B. impresionismus  
C. kubismus  
D. fauvismus  
E. suprematismus

## 6. Kde vznikl nejdřív gotický sloh?

- A. Francie  
B. Belgie  
C. Německo  
D. Itálie  
E. USA

## 7. Ve kterém státě se nachází vyobrazené stavby?



A: .....



B: .....



C: .....



D: .....

## 8. Freska znamená:

A. malbu na sklo

C. malbu na zdi do vlhké omítky

B. oblouk nad vchodem

D. motiv obličeje na fasádě

## 9. V jakém období byla vynalezena lineární perspektiva?

A. v gotice

C. v 19. století

B. renesanci

D. v baroku

**10. Které z možností řadíme mezi výtvarné umění?**

A. tanec

D. divadlo

B. malířství

E. sochařství

C. zpěv

F. literatura

**11. Ke každému obrázku přiřadte jeden z níže uvedených uměleckých směrů:**

románský sloh


gotika

renesance

baroko



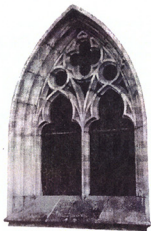
A: .....



B: .....



C: .....



D: .....

**12. Písemné prameny se uchovávají v:**

- A. galeriích  
B. muzeích  
C. skanzenech  
D. archívech

**13. Jaké události naší historie se pojí s letopočty:**

- 1918 .....  
1938 .....  
1945 .....  
1968 .....  
1989 .....

**14. Jste v kruhovém domě, kde všechna okna směřují na jih. Za oknem vidíte medvěda. Jakou má barvu?**

.....

**15. Nádoba se plní přitékající vodou tak, že každých 10 minut se zdvojnásobí objem vody v nádobě. Po 30 minutách je naplněná z poloviny. Za kolik minut bude nádoba plná?**

.....

**16. Jaké matematické znaménko vložíme mezi čísla 1 a 6, abychom dostali číslo větší než jedna, ale zároveň menší než 6?**

.....